

# Questions flash

# Série 1

# Diapo 1

Calculer mentalement.

a.  $254 \times 100 = \dots$

# Diapo 2

Calculer mentalement.

**b.**  $65,7 \times 100 = \dots$

# Diapo 3

Calculer mentalement.

c.  $0,78 \times 100 = \dots$

# Diapo 4

Calculer mentalement.

a.  $654 \div 100 = \dots$

# Diapo 5

Calculer mentalement.

**b.**  $67,3 \div 100 = \dots$

# Diapo 6

Calculer mentalement.

c.  $12 \div 100 = \dots$



# Diapo 7

Calculer mentalement.

**b.**  $75,3 \times 1\,000 = \dots$

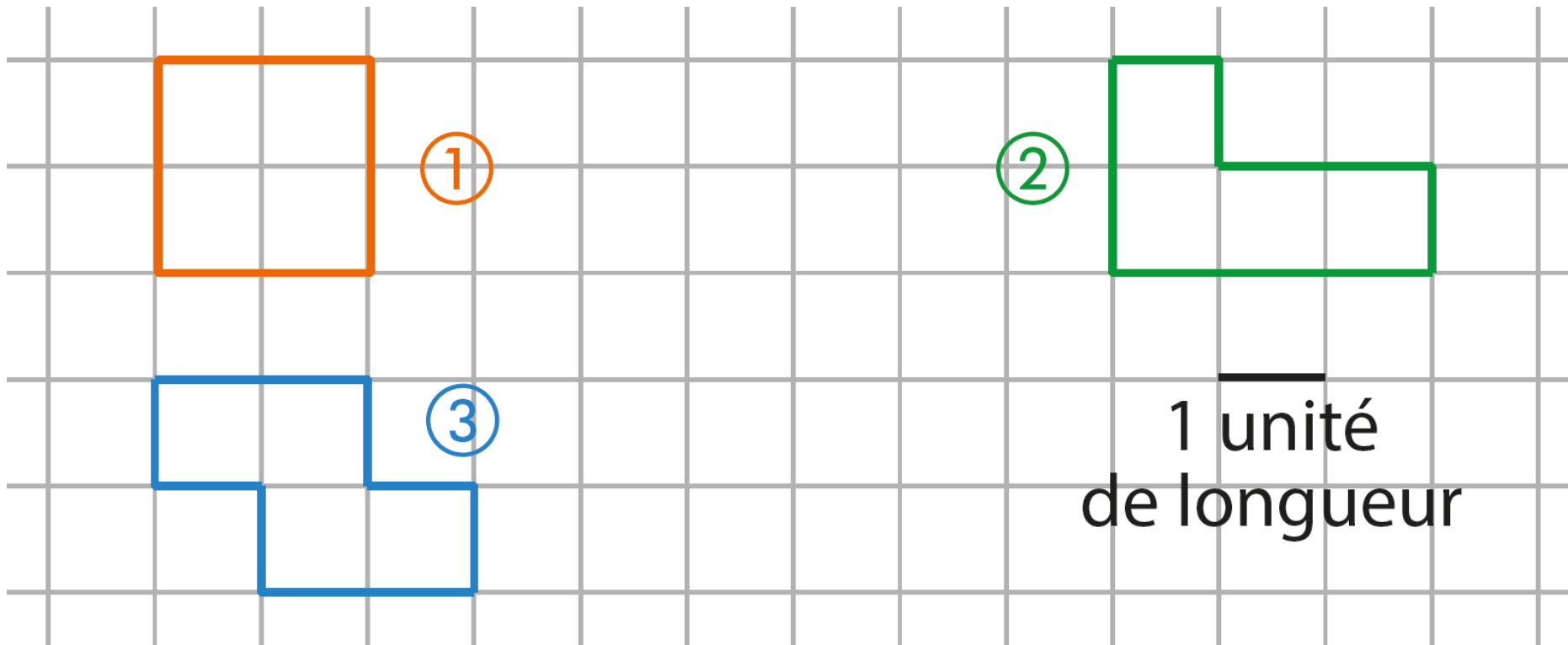
# Diapo 8

Calculer mentalement.

c.  $8,5 : 100 = \dots$

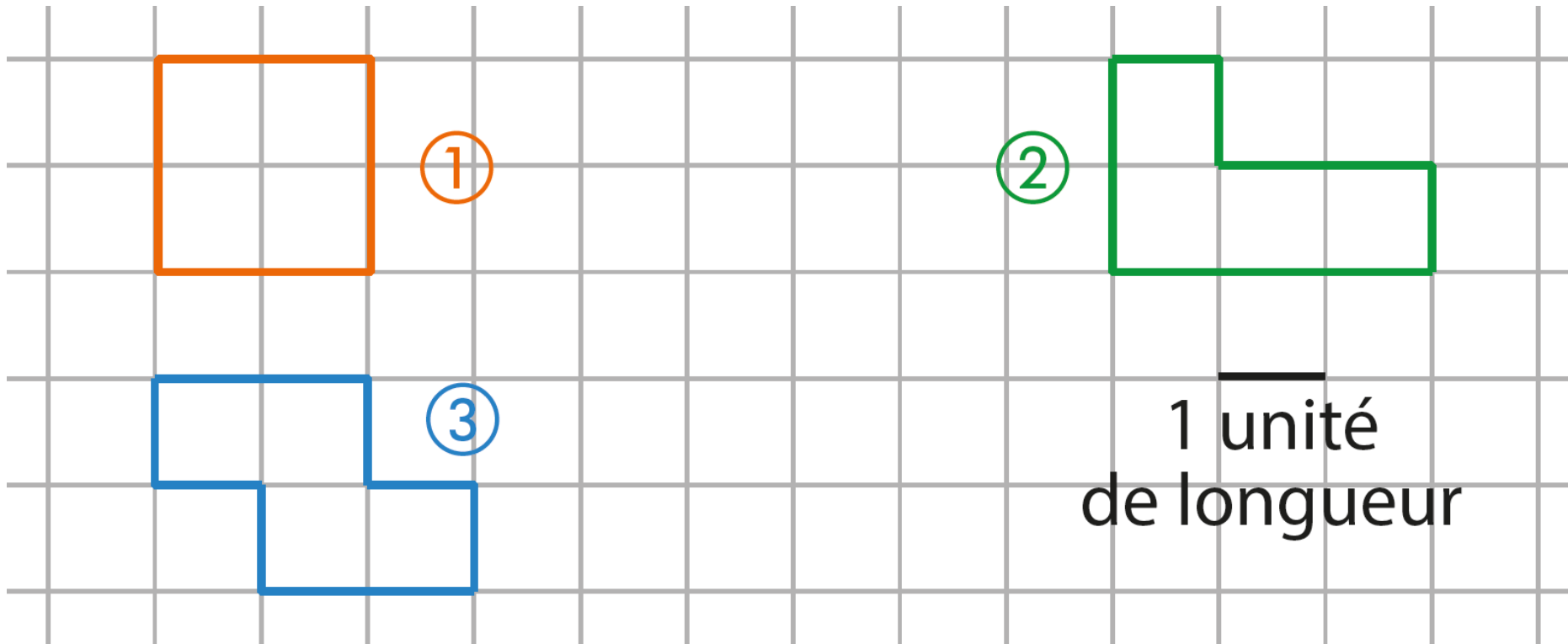
## Diapo 9

Déterminer le périmètre de chaque figure.



# Diapo 10

Déterminer l'aire de chaque figure.



## Série 2

# Diapo 1

Calculer mentalement.

$$0,254 \times 100 = \dots$$

## Diapo 2

Calculer mentalement.

$$65,704 \times 1\,000 = \dots$$

# Diapo 3

Calculer mentalement.

$$0,078 \times 100 = \dots$$



## Diapo 4

Calculer mentalement.

$$65,4 \div 100 = \dots$$

# Diapo 5

Calculer mentalement.

$$607,3 \div 100 = \dots$$

# Diapo 6

Calculer mentalement.

$$1,2 \div 100 = \dots$$

# Diapo 7

Calculer mentalement :

$$0,003\ 4 \times 1\ 000 = \dots$$

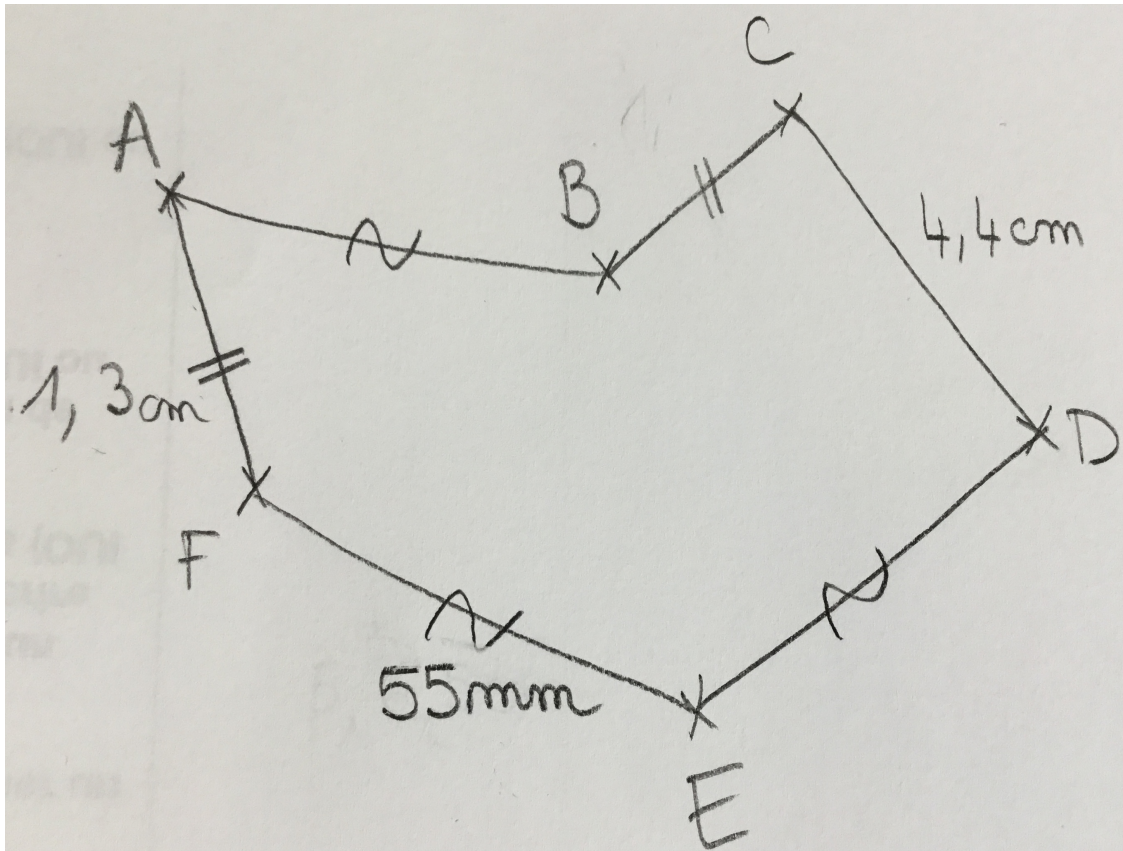
# Diapo 8

Calculer mentalement.

$$85,6 : 100 = \dots$$

## Diapo 9

Calculer le périmètre de cette figure.



## Diapo 10

Calculer le périmètre du quadrilatère IJHE.

