














4° - FC : opérations de fractions







 Je sais vérifier si deux quotients sont égaux et simplifier une fraction


Ex 11 
Ex 13 
Ex 6 
Ex 8 
Ex 5 





 Je sais vérifier si deux quotients sont égaux et simplifier une fraction


Ex 12 
Ex 13 
Ex 8 
Ex 6 
Ex 7 
Ex 5 





 Je sais additionner et soustraire des fractions


Ex 1 A, B et D 
Ex 2 A, C et D 
Ex 3 B 






 Je sais additionner et soustraire des fractions


Ex 1 
Ex 2 
Ex 3 
Ex 31 




 Je sais multiplier des fractions

Ex 20 
Ex 22 
Ex 9 
Ex 10 




 Je sais multiplier des fractions

Ex 21 
Ex 22 
Ex 23 
Ex 9 
Ex 10 

 Je sais trouver l'inverse d'un nombre

Ex 37 
Ex 38 
Ex 40 

 Je sais trouver l'inverse d'un nombre

Ex 37 
Ex 38 
Ex 39 
Ex 40 



Je sais calculer le quotient de fractions

- Ex 46
- Ex 44
- Ex 47
- Ex 49 A
- Ex 50 L




Je sais résoudre un problème avec des fractions

- Ex 28
- Ex 30
- Ex 55
- Ex 62
- Ex 31
- Ex 56
- Ex 62
- Ex 65



Je sais calculer le quotient de fractions

- Ex 46
- Ex 44
- Ex 47
- Ex 48
- Ex 45
- Ex 48 A et B
- Ex 49



Je sais résoudre un problème avec des fractions

- Ex 29
- Ex 30
- Ex 55
- Ex 56
- Ex 69
- Ex 57
- Ex 31
- Ex 62
- Ex 67

