





3° FC : théorèmes de géométrie

 Je sais calculer une longueur dans un triangle rectangle


Ex 5
Ex 3







 Je sais calculer une longueur dans un triangle rectangle


Ex 4
Ex 1







 Je sais calculer une longueur dans une configuration de Thalès


Ex 12
Ex 13






 Je sais calculer une longueur dans une configuration de Thalès

Ex 11
Ex 13





 Je sais montrer qu'un triangle est rectangle ou non

Ex 18






 Je sais montrer qu'un triangle est rectangle ou non


Ex 18






 Je sais montrer que deux droites sont parallèles ou non

Ex 8
Ex 10





 Je sais montrer que deux droites sont parallèles ou non


Ex 8
Ex 10





Pour aller plus loin : résoudre des problèmes

Ex 6
Ex 15
Ex 17
Ex 19



Pour aller plus loin : résoudre des problèmes

Ex 7
Ex 15
Ex 16
Ex 2
Ex 17
Ex 19

