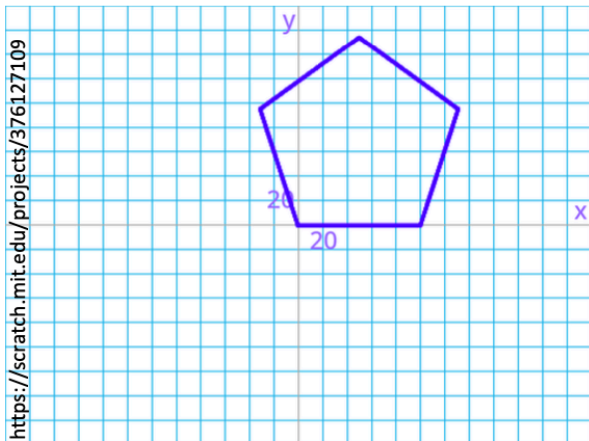


3° DNB révision SCRATCH

1) Réalise un programme qui permette de tracer ce pentagone régulier

Pentagone régulier Challenge 3

monclasseurdemaths.fr



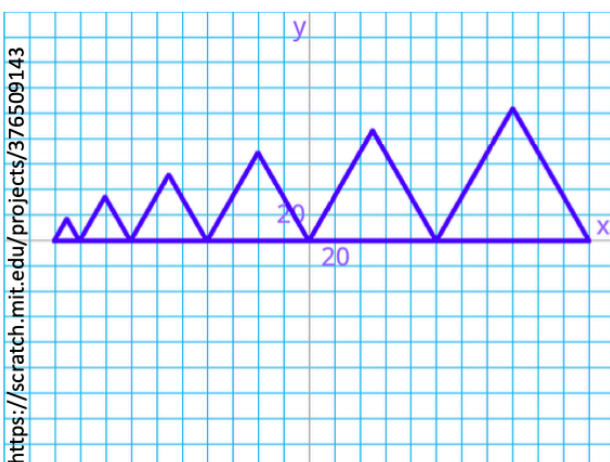
Blocs à utiliser :



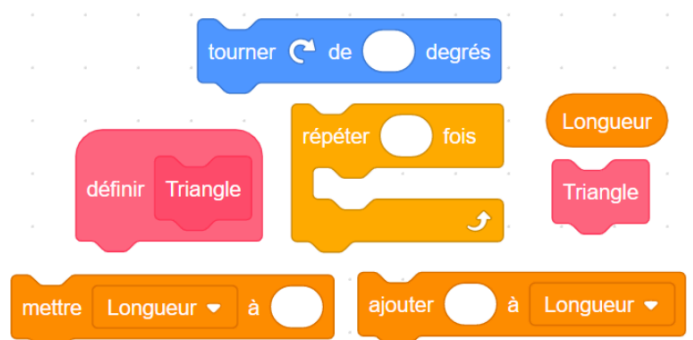
2) Réalise un programme qui permette de tracer cette frise

Série de triangles Challenge 19

monclasseurdemaths.fr



Quelques blocs à utiliser :



3) Réalise un programme qui permette de tracer la même frise qu'au 2) mais à chaque triangle on change de couleur

4) Réalise un programme qui permette de tracer la même frise qu'au 2) mais à chaque triangle on change la taille du stylo qui écrit de plus en plus gros